

stopnja 7

13-99 let

PREVERI SVOJ



Roman Brilej, Nada Štaidohar

Ljubljana 2005

KAZALO

Test 1	9	Test 12	75
Test 2	15	Test 13	81
Test 3	21	Test 14	87
Test 4	27	Test 15	93
Test 5	33	Test 16	99
Test 6	39	Test 17	105
Test 7	45	Test 18	111
Test 8	51	Test 19	117
Test 9	57	Test 20	123
Test 10	63	Rešitve	129
Test 11	69		

TEST 11

1. Izberi najboljšo primerjavo.

•	□	◆	◇
---	---	---	---

 je proti

○	×	▭	△
---	---	---	---

 kot

◇	□	◆	•	□
---	---	---	---	---

 proti:



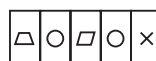
A



B



C



D



E



F

2. Za pet najvišjih vrhov sveta velja: Najvišji Mount Everest je za slabih 400 m višji od Makaluja, ta pa je za dobrih 100 m nižji od Kangčendzenge, K2, ki je drugi najvišji vrh na svetu, je za okoli 100 m višji od Lotseja. Kateri izmed petih vrhov je najnižji?

3. Katera črka nadomesti vprašaj?



4. Na pike napiši niz 3 črk, s katerim se konča prva beseda in začne druga. Obe besedi naj bosta samostalnika v 1. sklonu ednine.

KO (...) ARA


5. V črkovnem kvadratu poišči tri vprašalne zaimke.

S	M	K	D	L	V	K
D	I	J	T	B	A	D
K	V	K	S	T	O	O
M	A	J	E	M	Z	B
I	G	R	V	K	L	B
J	I	R	D	I	T	S
O	Č	K	M	J	O	I

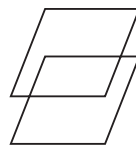
6. Katera slika ne sodi med ostale?



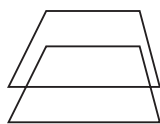
A



B



C



D



E

7. Izberi najboljšo primerjavo.

EMONA je proti LJUBLJANA kot ATRANS proti:

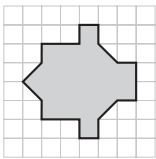
ANKARAN AJDOVŠČINA TREBNJE TROJANE

8. Izberi najboljšo primerjavo.

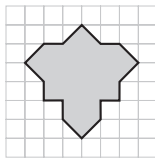
$\frac{3}{4}$ je proti $\frac{21}{28}$ kot $\frac{5}{7}$ proti:

$\frac{20}{21}$ $\frac{40}{63}$ $\frac{25}{35}$ $\frac{45}{56}$

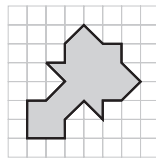
9. Kateri lik ne sodi med ostale?



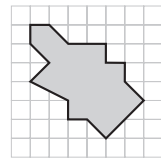
A



B

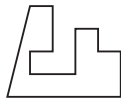


C



D

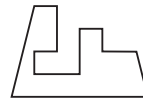
10. Katera dela sestavljata celoten enakokraki trapez?



A



B



C



D



E



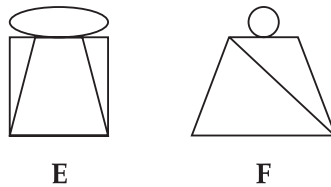
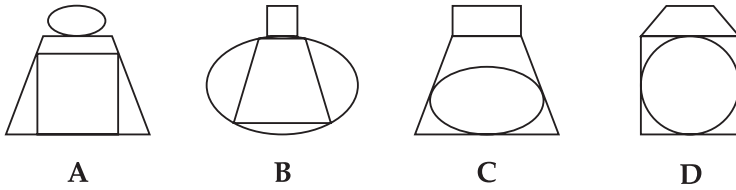
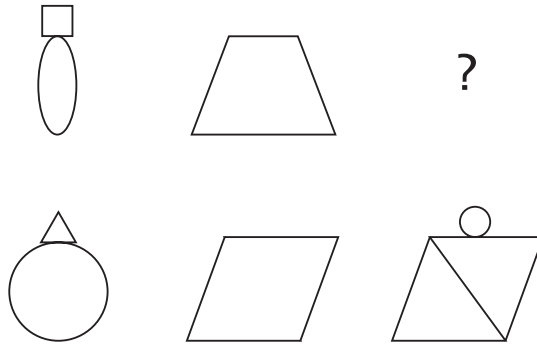

F

11. S katero od navedenih besed se nadaljuje zaporedje?

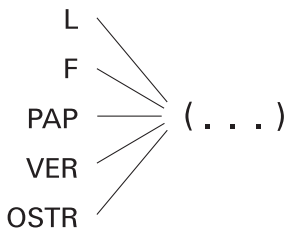
MOUSE NIGHT OIL POOL ...

ROCKET HOUSE QUEEN RULER

12. Katera slika nadomesti vprašaj?



13. Kateri niz 3 črk moraš napisati na pike, da bo tvoril z danimi nizi črk nove besede?



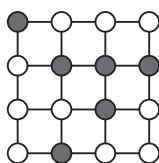
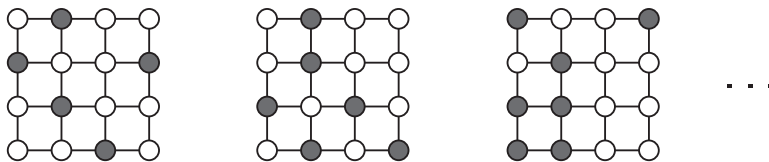
14. Kateri narod ne sodi med ostale?

Irci Romuni Škoti Bretonci

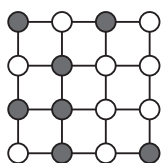
15. Če premečesh črke v zapisu PREKODAVIP, dobiš ime:

živali države književne vrste umetne mase

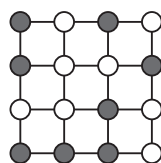
16. S katero sliko se nadaljuje zaporedje?



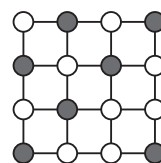
A



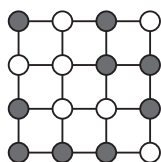
B



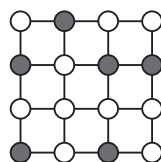
C



D



E



F

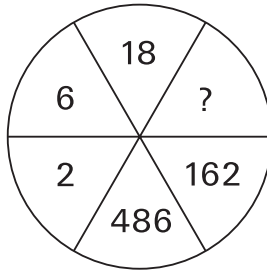
17. Katera beseda ne sodi med ostale?

TUNA SARDELA DELFIN BRANCIN

18. Katera beseda ne sodi med ostale?

OMARA KITARA SVETILO OAZA PREDLOG

19. Katero število nadomesti vprašaj?



20. Katera beseda ne sodi med ostale?

LEG ARM PEAR NOSE FINGER

TEST 11

1. **B** (Črni mali krogec spremenimo v beli veliki krogec, kvadrat v krat ...)
2. **Makalu.**
3. **J** (V abecedi od zadaj naprej spustimo vsako drugo črko.)
4. **KOŠ**
5. **KATERI, KDO, ČIGAV**
6. **A** (Na ostalih dobimo spodnji lik tako, da zgornjega premaknemo navzdol.)
7. **TROJANE** (EMONA je ime LJUBLJANE iz rimskih časov, prav tako je ATRANS ime TROJAN.)
8. $\frac{25}{35} \left(\frac{3}{4} = \frac{21}{28} \text{ in } \frac{5}{7} = \frac{2}{3} \right)$
9. **D** (Ostali so osno simetrični.)
10. **C, D**
11. **QUEEN** (Prve črke besed so zaporedne črke v abecedi.)
12. **A** (V posamezni vrstici sestavimo tretjo obliko tako, da v lik na drugi sliki vrišemo primerno povečan manjši lik iz prve slike, na lik in druge slike pa še postavimo primerno pomanjšan večji lik iz prve slike.)
13. **IGA**
14. **Romuni** (Ostali so potomci starih Keltov.)
15. **književne vrste** (pripovedka)
16. **C** (Število pobarvanih krogcev se večja za 1.)
17. **DELFIN** (Ostale so ribe.)
18. **PREDLOG** (Vse ostale imajo 3 zloge.)
19. **54** (V smeri urinega kazalca množimo s 3, začnemo z 2.)
20. **PEAR** (Ostale besede pomenijo dele telesa.)