

Roman Brilej

Spoznaj
nurikabe

Ljubljana 2006

Razlaga pravil

Osnovno navodilo igre: Po danih pravilih počrtnite nekatera polja tako, da ustvarite ločena bela območja.

Osnovno navodilo nam pove, kaj pravzaprav pri nurikabeju počne-
mo. V dani mreži moramo počrtni določena polja tako, da nas-
tanejo ločena območja belih polj. Na sliki je primer naloge in njena
rešitev. Vidimo, da so 4 bela območja ločena s črnim »zidom«.

Naloga

	1	2	
	4		
3			

Rešitev

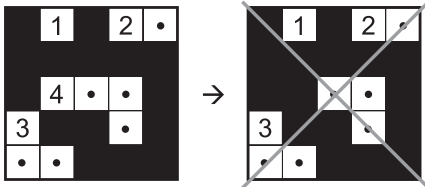
	1	2	•
	4	•	•
3			•
•	•		

Bela polja, z izjemo tistih, v katerih ležijo številke, so označena s pikami. To nam pomaga pri reševanju, da ločimo polja, za katera vemo, da so bela, od tistih, za katera ne vemo, kakšne barve so.

Ob gornji sliki velja pripomniti (kasneje bo navedeno še med pravi-
li), da so bela območja, ki jih omenja navodilo, med seboj ločena s
črnimi polji. Dotikati se smejo zgolj v ogliščih.

Pravilo 1: Polje s številko je vselej belo.

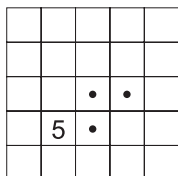
Pravilo pove, da ne smemo počrtni polja, v katerem se nahaja
številka.



Nasveti za reševanje

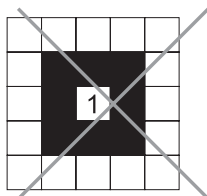

1. Označite bela polja

Polja, za katera veste, da so bela, označite na primer s piko na sredini. Tako jih ločite od tistih, za katera ne veste, ali so bela ali črna. Na sliki je nekaj polj, ki sodijo k območju s številko 5, označenih s piko.



2. Obzidajte enko

Območje, v katerem leži številka 1, vsebuje eno samo polje – tisto, v katerem leži ta številka. Ker mora biti to območje ločeno od ostalih belih območij s črnimi polji, lahko polje s številko 1 obzidate s črnim zidom. Pri tem bodite pozorni, da črna polja ne postavite okrog in okrog enke, saj se različna bela območja smejo stikati v ogliščih. Leva slika prikazuje pravilno razporeditev črnih polj okoli enke, desna pa nepravilno.



3. Obzidajte celotno belo območje

Ko ugotovite, kje ležijo vsa polja nekega belega območja, jih, podobno kot enko, obzidajte. Zopet bodite pozorni, da ne počrtnite polja, ki se danega belega območja dotika samo v oglišču. Na

4

osnovna raven

		2
2		

12

osnovna raven

	4				2
3					
		4			

		8						
							2	
		9						3
	4							
		5				6		3
	3							
						1		

	3			3		3			
								3	
			3			3			
				3					
						3			
	3			3					
								3	
				3					
	3							3	
			3						3
3		3							
						3			

103

srednja raven


5				5				1	
	5		5						
								5	
			5						
									5
			5		5		5		
	5								
								5	
		2							
5									
							5		5
						5			

112


višja raven

5								1	
							1		4
		3				3		2	
			4						
				5				3	
							4		
				3					
2									
	5								5
				5		5			
	4								
5							8		
	1						4		
					2				7
	7								
3									6
	5						6		
				4					2
	12								
4								8	


17




18




19




20




21




22




103



104



105



106

