

stopnja 6  
12-99 let

# PREVERI SVOJ



**Roman Brilej, Nada Štajdohar**

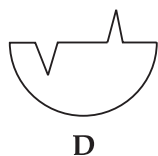
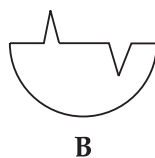
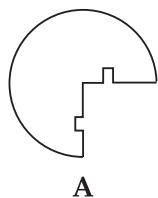
Ljubljana 2005

# KAZALO

|               |    |               |     |
|---------------|----|---------------|-----|
| Test 1 .....  | 9  | Test 12 ..... | 75  |
| Test 2 .....  | 15 | Test 13 ..... | 81  |
| Test 3 .....  | 21 | Test 14 ..... | 87  |
| Test 4 .....  | 27 | Test 15 ..... | 93  |
| Test 5 .....  | 33 | Test 16 ..... | 99  |
| Test 6 .....  | 39 | Test 17 ..... | 105 |
| Test 7 .....  | 45 | Test 18 ..... | 111 |
| Test 8 .....  | 51 | Test 19 ..... | 117 |
| Test 9 .....  | 57 | Test 20 ..... | 123 |
| Test 10 ..... | 63 | Rešitve ..... | 129 |
| Test 11 ..... | 69 |               |     |

# TEST 4

1. Katera dela sestavljata celoten krog?

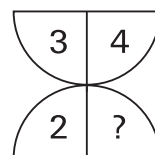
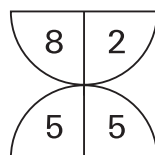
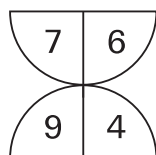


2. Izberi najboljšo primerjavo.

P je proti Q kot X proti:

V W Y Z

3. Katero število nadomesti vprašaj?

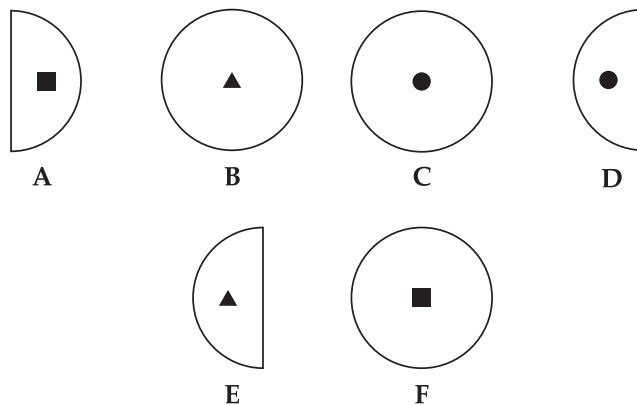
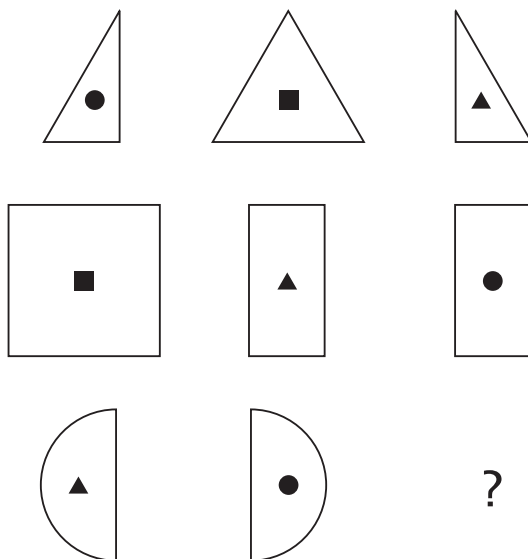


4. Katero število ne sodi med ostala?

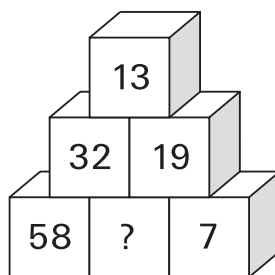
2 141   3 050   1 304   4 211   5 207

5. Na šolskem krosu je teklo 77 deklet. Pred Sonjo je na cilj priteklo samo toliko deklet kot za njo. Katera po vrsti je bila Sonja, če so na cilj pritekla vsa dekleta?

6. Katera slika nadomesti vprašaj?



7. Katera številka nadomesti vprašaj?

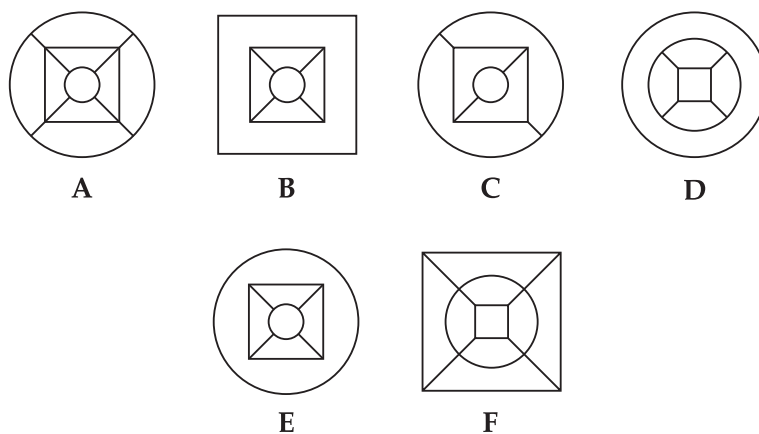
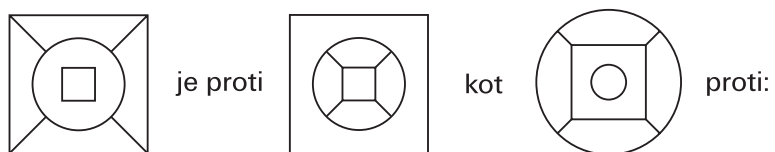


8. Izberi najboljšo primerjavo.

NALIVNIK je proti PAPIR kot DLETO proti:

PERO ČOPIČ KAMEN HIEROGLIF

9. Izberi najboljšo primerjavo.



10. V črkovnem kvadratu poišči tri pojme iz področja likovne umetnosti.

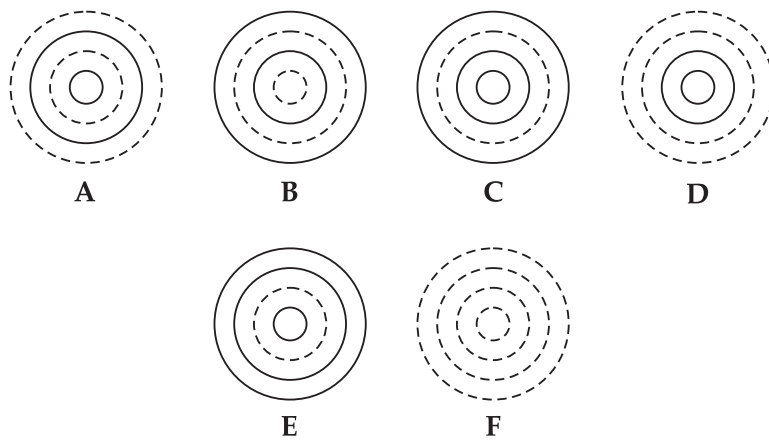
|   |   |   |   |   |   |
|---|---|---|---|---|---|
| R | K | Ž | Š | V | T |
| T | A | K | I | N | U |
| V | B | J | U | Č | M |
| A | S | I | T | D | O |
| Z | I | L | V | G | J |
| M | R | S | M | T | O |

11. Izberi najboljšo primerjavo.

DREJČEK je proti NAOČNIKU kot DREJČEK IN TRIJE MARSOVČKI proti:

- |                      |                     |
|----------------------|---------------------|
| A Stopinje v zraku   | B Potovanje na luno |
| C Slavni pleskar Tom | D Železni prstan    |

12. S katero sliko se nadaljuje zaporedje?



13. Katera slika ne sodi med ostale?



A



B



C



D



E



F

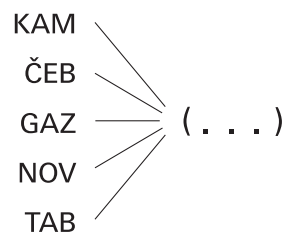
14. Katera beseda ne sodi med ostale?

SLUGA    VOJVODA    SUŽNJA    VODJA    ATA

15. V številskem kvadratu poišči največje in najmanjše štirimestno število.  
Kolikšna je njuna vsota?

|   |   |   |   |
|---|---|---|---|
| 3 | 1 | 7 | 1 |
| 8 | 5 | 0 | 3 |
| 5 | 1 | 7 | 6 |
| 9 | 1 | 1 | 8 |

16. Kateri niz 3 črk moraš napisati na pike, da bo tvoril z danimi nizi črk nove besede?



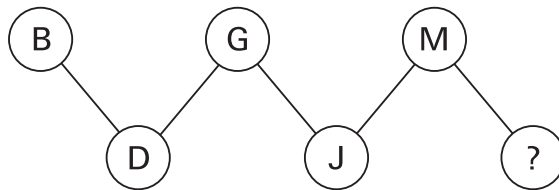
17. Katera beseda ne sodi med ostale?

HE YOU WE EAT SHE THEY

18. Na pike napiši niz 3 črk, s katerim se konča prva beseda in začne druga.  
Obe besedi naj bosta samostalnika v 1. sklonu ednine.

PRIS ( . . . ) KA

19. Katera črka nadomesti vprašaj?



20. Katera beseda ne sodi med ostale?

LEV KAMELA PINGVIN ZEBRA



## TEST 4

1. **C, E**
2. **Y** (V angleški abecedi je črka P pred črko Q, črka X pa pred črko Y.)
3. **5** (Vsota zgornjih dveh števil je enaka vsoti spodnjih dveh števil.)
4. **5 207** (V preostalih številkah je vsota števk enaka 8.)
5. **39**
6. **F** (V vsaki vrstici dva velika lika sestavimo v tretjega. Pri tem skupna črta izgine. Vsak izmed malih polnih likov nastopa v vsaki vrstici enkrat.)
7. **26** (Število na zidaku v gornjih dveh vrstah je enako razliki števil na dveh zidakih pod njim.)
8. **KAMEN** (Z NALIVNIKOM pišemo na papir, z DLETOM pa »pišemo« na KAMEN.)
9. **E** (Črte med zunanjim in srednjim likom premaknemo v notranjost med srednji in notranji lik.)
10. **ODTIS, RISBA, UNIKAT**
11. **A** (NAOČNIK je ena od glavnih oseb v tem delu.)
12. **A** (Izmenoma dodajamo krog s polno in prekinjeno črto.)
13. **C** (Ostale like dobimo z vrtenjem lika A.)
14. **SUŽNJA** (Ni samostalnik moškega spola.)
15. **10 602** ( $9\ 583 + 1\ 019$ )
16. **ELA**
17. **EAT** (Ni osebni zaimek.)
18. **LOV**
19. **P** (V abecedi spustimo po dve črki.)
20. **PINGVIN** (Edini ne živi v tropskem pasu.)