

stopnja 7

13-99 let

# PREVERI SVOJ



**Roman Brilej, Nada Štaidohar**

Ljubljana 2005

# KAZALO

|               |    |               |     |
|---------------|----|---------------|-----|
| Test 1 .....  | 9  | Test 12 ..... | 75  |
| Test 2 .....  | 15 | Test 13 ..... | 81  |
| Test 3 .....  | 21 | Test 14 ..... | 87  |
| Test 4 .....  | 27 | Test 15 ..... | 93  |
| Test 5 .....  | 33 | Test 16 ..... | 99  |
| Test 6 .....  | 39 | Test 17 ..... | 105 |
| Test 7 .....  | 45 | Test 18 ..... | 111 |
| Test 8 .....  | 51 | Test 19 ..... | 117 |
| Test 9 .....  | 57 | Test 20 ..... | 123 |
| Test 10 ..... | 63 | Rešitve ..... | 129 |
| Test 11 ..... | 69 |               |     |

# TEST 11

1. Izberi najboljšo primerjavo.


 je proti
 
 kot
 
 proti:



A



B



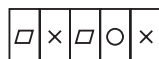
C



D



E



F

2. Za pet najvišjih vrhov sveta velja: Najvišji Mount Everest je za slabih 400 m višji od Makaluja, ta pa je za dobrih 100 m nižji od Kangčendzenge, K2, ki je drugi najvišji vrh na svetu, je za okoli 100 m višji od Lotseja. Kateri izmed petih vrhov je najnižji?

3. Katera črka nadomesti vprašaj?



4. Na pike napiši niz 3 črk, s katerim se konča prva beseda in začne druga. Obe besedi naj bosta samostalnika v 1. sklonu ednine.

KO ( . . . ) ARA


5. V črkovnem kvadratu poišči tri vprašalne zaimke.

|   |   |   |   |   |   |   |
|---|---|---|---|---|---|---|
| S | M | K | D | L | V | K |
| D | I | J | T | B | A | D |
| K | V | K | S | T | O | O |
| M | A | J | E | M | Z | B |
| I | G | R | V | K | L | B |
| J | I | R | D | I | T | S |
| O | Č | K | M | J | O | I |

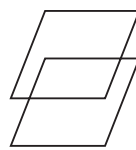
6. Katera slika ne sodi med ostale?



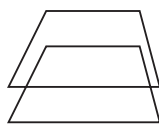
A



B



C



D



E

7. Izberi najboljšo primerjavo.

EMONA je proti LJUBLJANA kot ATRANS proti:

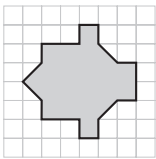
ANKARAN    AJDOVŠČINA    TREBNJE    TROJANE

8. Izberi najboljšo primerjavo.

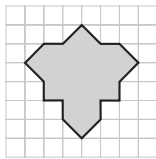
$\frac{3}{4}$  je proti  $\frac{21}{28}$  kot  $\frac{5}{7}$  proti:

$\frac{20}{21}$     $\frac{40}{63}$     $\frac{25}{35}$     $\frac{45}{56}$

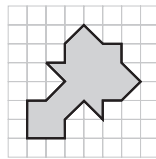
9. Kateri lik ne sodi med ostale?



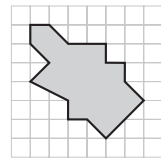
A



B

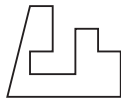


C

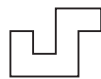


D

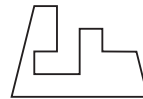
10. Katera dela sestavljata celoten enakokraki trapez?



A



B



C



D



E



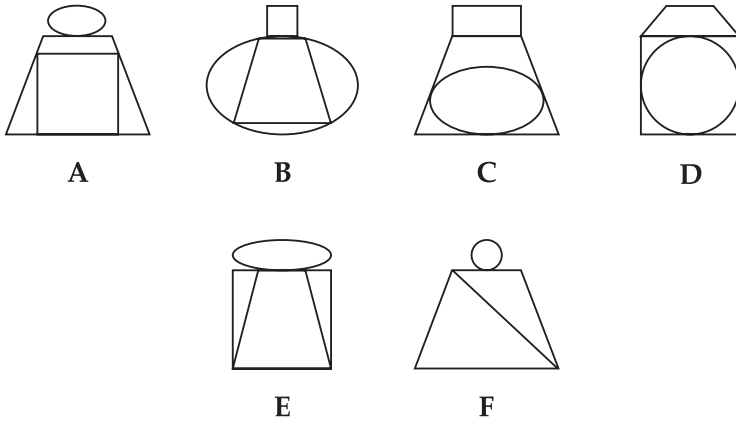
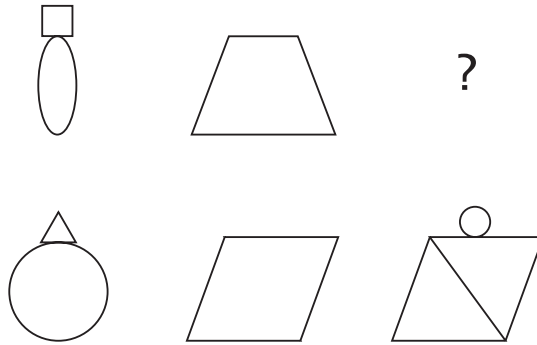

F

11. S katero od navedenih besed se nadaljuje zaporedje?

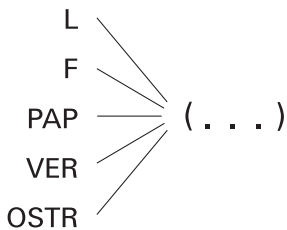
MOUSE   NIGHT   OIL   POOL ...

ROCKET   HOUSE   QUEEN   RULER

12. Katera slika nadomesti vprašaj?



13. Kateri niz 3 črk moraš napisati na pike, da bo tvoril z danimi nizi črk nove besede?



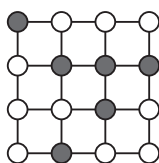
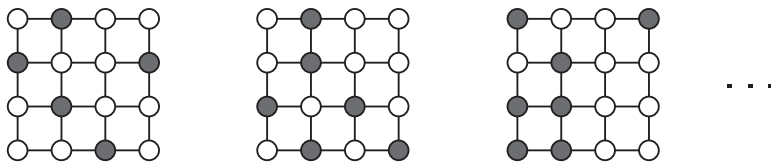
14. Kateri narod ne sodi med ostale?

Irci   Romuni   Škoti   Bretonci

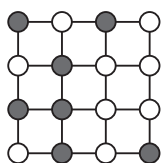
15. Če premečesh črke v zapisu PREKODAVIP, dobiš ime:

živali   države   književne vrste   umetne mase

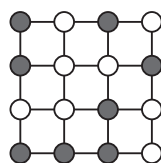
16. S katero sliko se nadaljuje zaporedje?



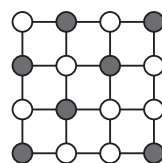
A



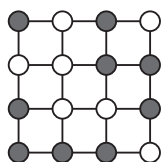
B



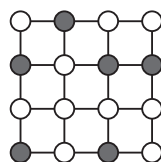
C



D



E



F

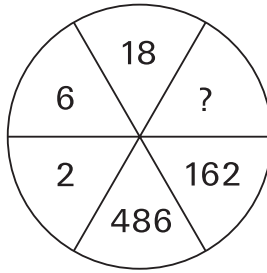
17. Katera beseda ne sodi med ostale?

TUNA   SARDELA   DELFIN   BRANCIN

18. Katera beseda ne sodi med ostale?

OMARA   KITARA   SVETILO   OAZA   PREDLOG

19. Katero število nadomesti vprašaj?



20. Katera beseda ne sodi med ostale?

LEG    ARM    PEAR    NOSE    FINGER



# TEST 11

1. **B** (Črni mali krogec spremenimo v beli veliki krogec, kvadrat v krat ...)
2. **Makalu.**
3. **J** (V abecedi od zadaj naprej spustimo vsako drugo črko.)
4. **KOŠ**
5. **KATERI, KDO, ČIGAV**
6. **A** (Na ostalih dobimo spodnji lik tako, da zgornjega premaknemo navzdol.)
7. **TROJANE** (EMONA je ime LJUBLJANE iz rimskih časov, prav tako je ATRANS ime TROJAN.)
8.  $\frac{25}{35} \left( \frac{3}{4} = \frac{21}{28} \text{ in } \frac{5}{7} = \frac{2}{3} \right)$
9. **D** (Ostali so osno simetrični.)
10. **C, D**
11. **QUEEN** (Prve črke besed so zaporedne črke v abecedi.)
12. **A** (V posamezni vrstici sestavimo tretjo obliko tako, da v lik na drugi sliki vrišemo primerno povečan manjši lik iz prve slike, na lik in druge slike pa še postavimo primerno pomanjšan večji lik iz prve slike.)
13. **IGA**
14. **Romuni** (Ostali so potomci starih Keltov.)
15. **književne vrste** (pripovedka)
16. **C** (Število pobarvanih krogcev se večja za 1.)
17. **DELFIN** (Ostale so ribe.)
18. **PREDLOG** (Vse ostale imajo 3 zloge.)
19. **54** (V smeri urinega kazalca množimo s 3, začnemo z 2.)
20. **PEAR** (Ostale besede pomenijo dele telesa.)